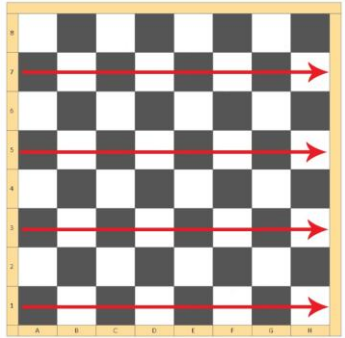



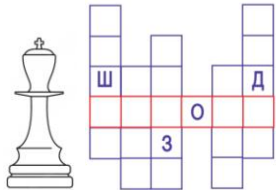


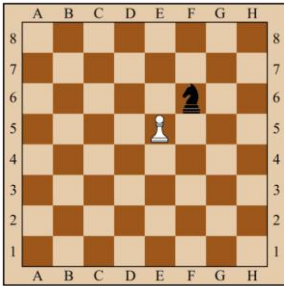

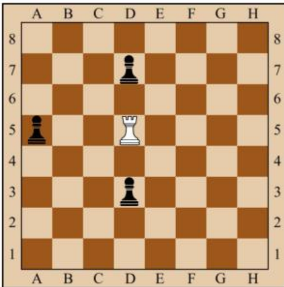
**Всероссийский конкурс  
«Путешествие в шахматное королевство»  
(для учащихся 1-2 классов)**

**Ответы**

Ответ должен быть представлен строго в виде **ОДНОГО СЛОВА, БУКВЫ** или **ЧИСЛА** (согласно условию задания) без кавычек, точек, орфографических ошибок. Некоторые вопросы содержат подсказку – буквы ответа. Букву «ё» можно писать как «е» или как «е». Неверно записанные ответы не учитываются.

| <b>Задание №1</b>   |  | <b>Ответ</b>  |
|---|--|---|
| <p>Шахматы – военная игра, в ней сражаются две армии – белая и чёрная. Они вступают в сражение между собой, стремясь захватить короля противника и всё его королевство. А как называется поле битвы в шахматах?</p> <p>1. Шахматная доска<br/>2. Шахматная площадка<br/>3. Шахматное поле</p> <p><i>В ответе напиши только номер выбранного варианта (1 или 2 или 3)</i></p>  |    | <p align="center"><b>1</b><br/><b>Шахматная доска</b></p> |
| <p><b>Задание №2</b></p> <p>Самый маленький солдат в шахматной армии. У него не получается ходить очень далеко, и вообще он может двигаться только вперёд. За один ход наш пехотинец может переместиться лишь на одну клетку. В ответе запиши название шахматной фигуры.</p> <p align="center">- - - - -</p> <p><i>В ответе запиши название шахматной фигуры</i></p>  |   | <p align="center"><b>Пешка</b></p>                        |
| <p><b>Задание №3</b></p> <p align="center"><i>Прыг-скок и за угол</i></p> <p>У этой шахматной фигуры самый сложный ход. Фигура не ходит ни по прямым линиям, ни по диагоналям и вообще не перемещается в одном направлении, она ходит буквой Г.</p> <p>Есть у этого шахматного бойца ещё одна уникальная способность – он может перепрыгивать через фигуры.</p> <p align="center">- - - - -</p> <p><i>В ответе запиши название шахматной фигуры</i></p> |  | <p align="center"><b>Конь</b></p>                         |
| <p><b>Задание №4</b></p> <p>Около названий шахматных фигур рассеянная Женя их нарисовала. Во всех ли случаях с ней можно согласиться? Если какая-нибудь из фигур нарисована неправильно, запиши её номер в ответ.</p> <p><i>В ответе напиши только номер выбранного варианта (1 или 2 или 3 или 4)</i></p>  |  | <p align="center"><b>2</b></p>                            |

| <b>Задание №5</b>  |  | <b>Ответ</b>  |
|--|--|---|
| <p>Все шахматные дорожки и поля имеют свои обозначения. Как называются ряды полей, идущие слева направо на шахматной доске, обозначаются цифрами.</p> <p>1. Вертикали<br/>2. Горизонталы<br/>3. Диагонали</p> <p><i>В ответе напиши только номер выбранного варианта (1 или 2 или 3)</i></p>   |    | <p style="text-align: center;"><b>2</b><br/><b>Горизонталы</b><br/><b>и</b></p> |
| <p style="text-align: center;"><b>Задание №6</b></p> <p>Сколько фигур у каждого игрока в начале игры?</p> <p>1. 16<br/>2. 12<br/>3. 14</p> <p><i>В ответе напиши только номер выбранного варианта (1 или 2 или 3)</i></p>  |  | <p style="text-align: center;"><b>1</b><br/><b>16</b></p>                       |
| <p style="text-align: center;"><b>Задание №7</b></p> <p>Какая шахматная фигура спряталась в слове «ЗАСЛОНКА»?</p> <p style="text-align: center;">— — — —</p> <p><i>В ответе запиши название шахматной фигуры</i></p>   |  | <p style="text-align: center;"><b>Слон</b></p>                                  |
| <p style="text-align: center;"><b>Задание №8</b></p> <p>Рассеянная Женя узнала, что ладья обозначается буквой Л, слон – С, ферзь – Ф, конь – К, а пешка – п. И всё же при записи она сделала ошибку. Найди неверное обозначение.</p> <p style="text-align: center;">1. ладья - Л      3. слон - Ф<br/>2. пешка - П      4. конь - К</p> <p><i>В ответе напиши только номер выбранного варианта (1 или 2 или 3 или 4)</i></p> |  | <p style="text-align: center;"><b>3</b></p>                                     |
| <p style="text-align: center;"><b>Задание №9</b></p> <p>Отгадай загадку.<br/>Вперёд и назад ходит браво,<br/>Помчится налево, направо.<br/>Ту фигуру знаю я,<br/>Ведь зовут её...</p> <p style="text-align: center;">— а — — —</p> <p><i>В ответе запиши название шахматной фигуры</i></p>   |  | <p style="text-align: center;"><b>Ладья</b></p>                                 |
| <p style="text-align: center;"><b>Задание №10</b></p> <p>Во всех этих словах<br/><b>томат, матрос, матрёшка, формат, мать</b><br/>спряталось шахматное слово. Найди его.</p> <p style="text-align: center;">— — —</p> <p><i>В ответе запиши только одно слово</i></p>  |  | <p style="text-align: center;"><b>Мат</b></p>                                   |

| Задание №11   |  | Ответ  |
|---|--|--|
| <p>Вспомни названия шахматных фигур и впиши их правильно в клеточки кроссворда.<br/> <i>В ответе запиши получившееся в красных клеточках слово</i></p>  |     | <p><i>Король</i></p>   |
| <p><b>Задание №12</b></p>   |  | <p><b>Ответ</b></p>  |
| <p>Девочка, которая испытала много шахматных приключений в Зазеркалье.<br/> <i>— — и — —</i><br/> <i>В ответе запиши имя девочки</i></p>  |  | <p><i>Алиса</i></p>  |
| <p><b>Задание №13</b></p>   |  | <p><b>Ответ</b></p>  |
| <p>Злой волшебник похитил фигуру. Догадайся, какой фигуры не хватает на картинке.<br/> <i>— — — — —</i><br/> <i>В ответе запиши название фигуры</i></p>   |    | <p><i>Король</i></p>   |
| <p><b>Задание №14</b></p>   |  | <p><b>Ответ</b></p>  |
| <p>Белая пешка упала с доски. На какое поле нужно поставить пешку так, чтобы чёрная фигура была под ударом.<br/> </p> <ol style="list-style-type: none"> <li>E5</li> <li>F5</li> <li>G6</li> </ol> <p><i>В ответе напиши только номер выбранного варианта (1 или 2 или 3)</i></p>                     |   | <p><i>1</i><br/> <i>E5 и G5</i></p> <p>пешки бьют по диагонали, они не могут ударить по горизонтали, вперед или назад.</p> |
| <p><b>Задание №15</b></p>   |  | <p><b>Ответ</b></p>  |
| <p>Белая ладья упала с доски. Выбери клетку, на которую нужно поставить ладью, чтобы <u>все</u> чёрные фигуры были под ударом.<br/> </p> <ol style="list-style-type: none"> <li>D1</li> <li>D5</li> <li>H5</li> </ol> <p><i>В ответе напиши только номер выбранного варианта (1 или 2 или 3)</i></p> |  | <p><i>2</i><br/> <i>D5</i></p> <p>ладья ходит и бьет фигуры по вертикалям и горизонталям</p>                               |

Уважаемые ребята, родители и координаторы!

Мы будем очень благодарны Вам за оставленный отзыв о конкурсе.

Ждём все Ваши предложения, пожелания и замечания на наши электронные адреса: unikum.konkurs@yandex.ru и mir-konkursov2008@yandex.ru